

第一单元《表内乘法(一)》检测题(B卷)(西师版)

(时间:80分钟 总分:100分)

一、口算。(每题0.5分,共15分)

$1 \times 2 =$	$4 \times 6 =$	$6 \times 1 =$	$1 \times 1 =$	$5 \times 3 =$	$5 \times 5 =$
$2 \times 2 =$	$2 \times 1 =$	$5 \times 1 =$	$4 \times 5 =$	$1 \times 3 =$	$12 + 20 =$
$6 \times 6 =$	$6 \times 3 =$	$89 - 34 =$	$6 \times 4 =$	$2 \times 6 =$	$75 - 68 =$
$2 \times 3 =$	$63 - 3 =$	$3 + 5 =$	$10 + 58 =$	$2 \times 5 =$	$6 \times 5 =$
$1 \times 6 =$	$4 \times 1 =$	$8 \times 4 =$	$3 \times 3 =$	$5 \times 4 =$	$96 - 24 =$

二、填空。(每空0.5分,共20分)

1. 把下面的口诀补充完整,并写出两个乘法算式。

四()二十四	五六()	二四()
_____	_____	_____
_____	_____	_____

2. 5个6相加,写成加法算式是(),写成乘法算式是() \times ()=(),其中因数是()和(),积是(),在计算这个算式时用到的乘法口诀是()。

3. 在○里填上“>”“<”或“=”。

$5 \times 2 \bigcirc 8$	$2 \times 6 \bigcirc 6 + 6$	$5 \times 5 \bigcirc 5 + 5$	$3 \times 4 \bigcirc 2 \times 6$
$3 \times 3 \bigcirc 3 + 3$	$4 \times 6 \bigcirc 5 \times 5$	$6 \times 5 \bigcirc 45 - 12$	$5 \times 2 \bigcirc 2 \times 3 + 4$

4. 把加法算式改写成乘法算式或乘加、乘减算式。

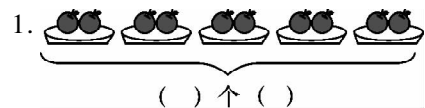
$4 + 4 + 4 + 4 + 4 + 4 =$	_____
$3 + 3 + 3 + 3 + 1 =$	_____
$6 + 6 + 6 + 6 + 6 =$	_____
$2 + 2 + 2 - 3 =$	_____

5. 在○里填上“+”“-”或“ \times ”。

$3 \bigcirc 3 = 6$	$3 \bigcirc 5 = 15$	$6 \bigcirc 3 = 3$	$4 \bigcirc 5 = 9$
$3 \bigcirc 3 = 9$	$5 \bigcirc 3 = 8$	$6 \bigcirc 3 = 18$	$5 \bigcirc 4 = 20$

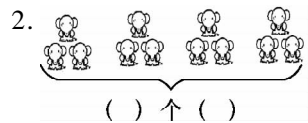
6. 一张桌子4条腿,2张桌子()条腿,4张桌子()条腿,6张桌子()条腿。

三、看图写算式。(每空 1 分,共 16 分)



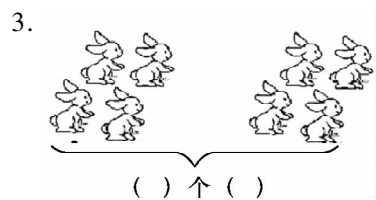
加法式子: _____,

乘法式子: _____。



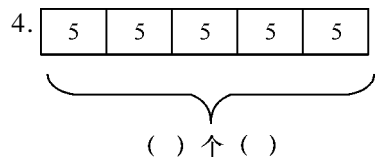
加法式子: _____,

乘法式子: _____。



加法式子: _____,

乘法式子: _____。



加法式子: _____,

乘法式子: _____。

四、判断。(对的打“√”,错的打“×”)(每题 1 分,共 6 分)

1. 5 个 4 相加是多少? 列式是 $5 + 4$ 。 ()
2. 一个因数是 4,另一个因数是 6,写成乘法算式是 $4 + 6 = 20$ 。 ()
3. $3 + 3$ 可以写成乘法算式是 3×3 。 ()
4. 5 个 5 相加,算式可以写成 $5 + 5 + 5 + 5 + 5$,也可以写成 5×5 。 ()
5. 小明的身高是 125 米。 ()
6. 2 个 3 相加列式是 2×3 ,3 个 2 相加列式也是 2×3 。 ()

五、用竖式笔算。(每题 2 分,共 8 分)

$45 + 36 =$

$82 - 19 =$

$12 + 38 - 27 =$

$62 - 39 + 18 =$

六、列式计算。(每题 1 分,共 10 分)

1. 一个因数是 9,另一个因数是 5,积是多少?

$$(\quad) \bigcirc (\quad) = (\quad)$$

2. 6 个 5 连加是多少?

$$(\quad) \bigcirc (\quad) = (\quad)$$

3. 两个因数都是 4,积是多少?

$$(\quad) \bigcirc (\quad) = (\quad)$$

4. 7 和 5 相乘是多少?

$$(\quad) \bigcirc (\quad) = (\quad)$$

5. 2 个 5 相加是多少?

$$(\quad) \bigcirc (\quad) = (\quad)$$

6. 5 加 8 和是多少?

$$(\quad) \bigcirc (\quad) = (\quad)$$

7. 分成 5 组,每组有 4 个,一共有多少个?

$$(\quad) \bigcirc (\quad) = (\quad)$$

8. 一辆自行车有 2 个轮子,5 辆自行车共有多少个轮子。

$$(\quad) \bigcirc (\quad) = (\quad)$$

9. 8 个 5 连加是多少?

$$(\quad) \bigcirc (\quad) = (\quad)$$

10. 7 和 5 相加是多少?

$$(\quad) \bigcirc (\quad) = (\quad)$$

七、解决问题。(共 25 分,前 5 题各 3 分,6 题 6 分,7 题 4 分)

1. 小红每个星期做 7 颗五角星,3 个星期做多少颗五角星?

2. 小红每天做一件好事,4 个星期做了几件好事?

3. 同学们做队列表演,排成 6 行,每行 5 人。

(1) 共有多少人参加表演?

(2) 其中男同学有 24 人,女同学有多少人?

4. 值日生有 5 个小组,每组有 7 个人,一共有多少人?

$\square \times \square = \square$ () 答:一共有()人。

5. 学样的餐桌每张可坐 4 位小朋友,幼儿园大班的小朋友正好坐满 9 张餐桌,幼儿园大班有多少位小朋友?

6.



洗衣粉6元



刀子3元



方便面2元

(1)买 3 袋方便面要用多少元?

$\square \times \square = \square$ ()

答:买 3 袋方便面要用()元。

(2)买 4 袋洗衣粉和一把刀子要用多少元?

$\square \bigcirc \square \bigcirc \square = \square$ ()

答:买 4 袋洗衣粉和一把刀子要()元。

(3)你还能提出一个用乘法计算的问题吗?

7. 操场上有 26 个小朋友在玩,左边来了 15 个,右边又来了 32 个,现在操场上有多少个小朋友?

$\square \bigcirc \square \bigcirc \square = \square$ ()

答:现在操场上有()个小朋友。

附加题

请在 2、3、5、6、10、12、14、16、18 中每次任选三个数,写出四道不同的乘法算式。

$\square \times \square = \square$ $\square \times \square = \square$ $\square \times \square = \square$ $\square \times \square = \square$